

70 座標、比例のグラフ

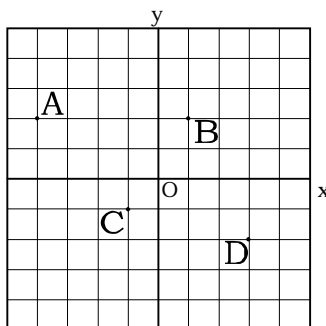
1 図のA～Dの座標を答えなさい。

A (,)

B (,)

C (,)

D (,)



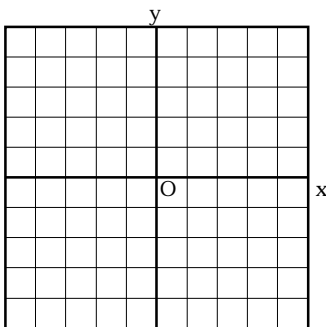
2 次の点を右の座標に示しなさい。

A(1, 1)

B(3, -2)

C(-4, -3)

D(-2, 4)



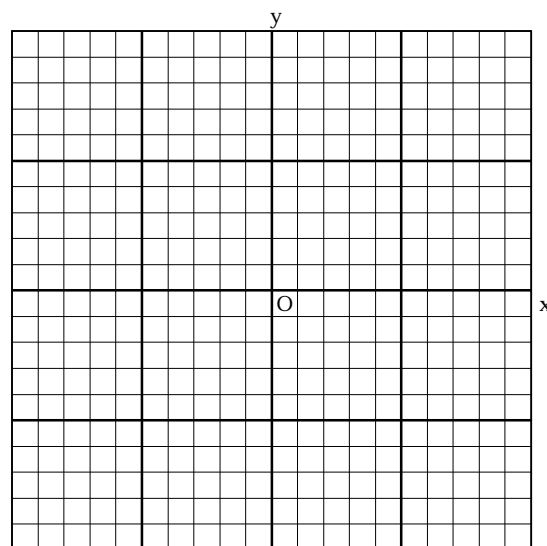
3 次の問いに答えよ。

(1) $y = \frac{1}{2}x$ について

表を埋めなさい。

x	-10	-8	-6	-4	-2	0	2	4	6	8	10
y											

右の座標に
グラフをかきなさい。



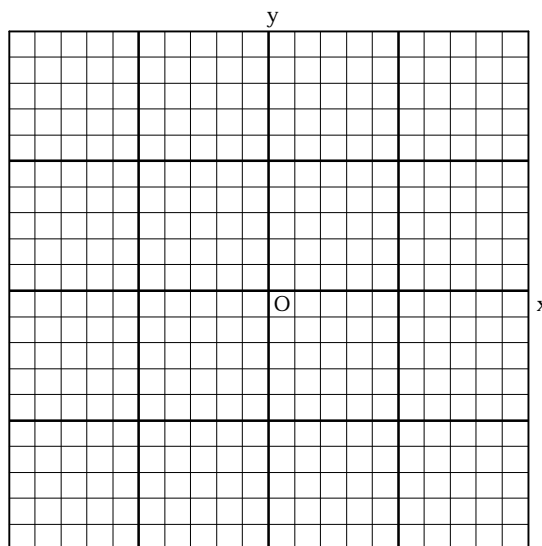
(2) 次の比例のグラフをかきなさい。

$$y = -4x$$

$$y = -\frac{3}{4}x$$

$$y = \frac{5}{2}x$$

$$y = 6x$$



71 答

1

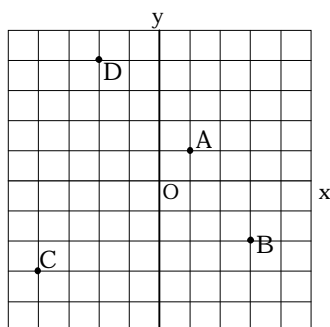
A (-4, 2)

B (1, 2)

C (-1, -1)

D (3, -2)

2 右図

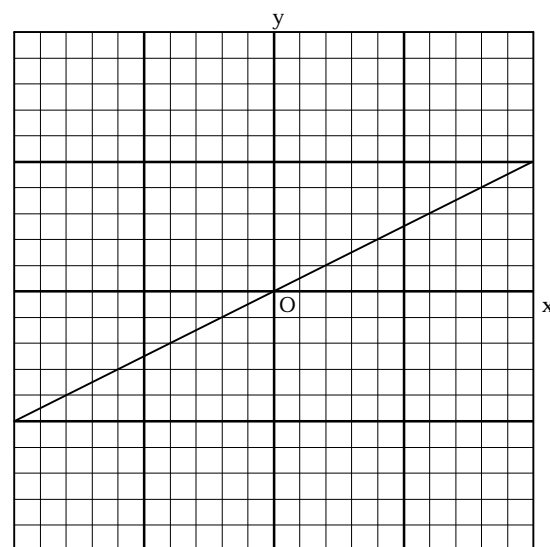


3

(1)

x	-10	-8	-6	-4	-2	0	2	4	6	8	10
y	-5	-4	-3	-2	-1	0	1	2	3	4	5

右図



(2) 右図

